

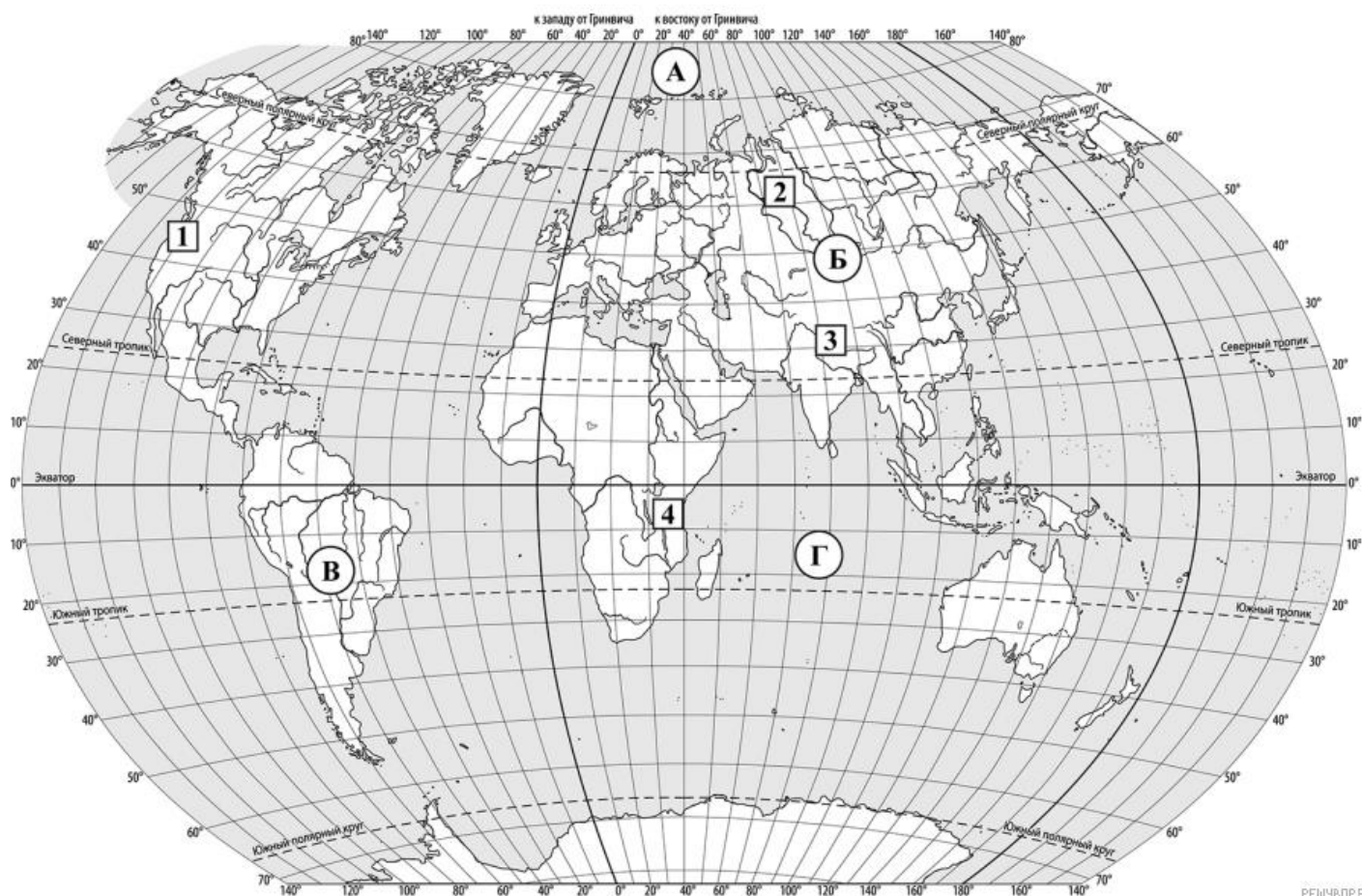
география 5 класс

При выполнении заданий с кратким ответом впишите в поле для ответа цифру, которая соответствует номеру правильного ответа, или число, слово, последовательность букв (слов) или цифр. Ответ следует записывать без пробелов и каких-либо дополнительных символов. Дробную часть отделяйте от целой десятичной запятой. Единицы измерений писать не нужно.

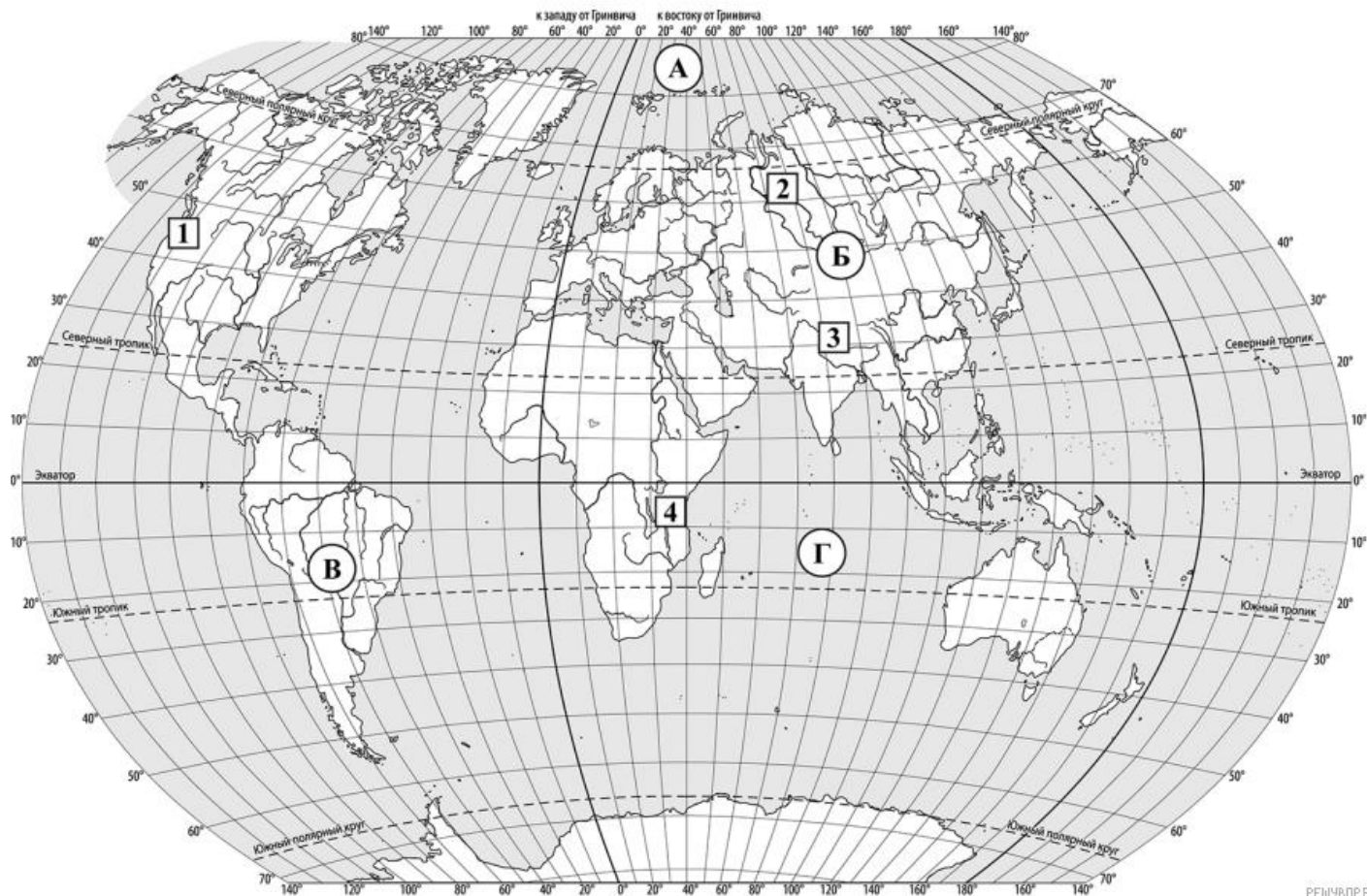
Если вариант задан учителем, вы можете вписать или загрузить в систему ответы к заданиям с развернутым ответом. Учитель увидит результаты выполнения заданий с кратким ответом и сможет оценить загруженные ответы к заданиям с развернутым ответом. Выставленные учителем баллы отобразятся в вашей статистике.

1 Запишите названия океанов, обозначенных на карте буквами А и Г.

Решения заданий с развернутым ответом не проверяются автоматически. Запишите решение на бумаге. На следующей странице вам будет предложено проверить их самостоятельно.



2 Какая равнина обозначена на карте цифрой 2? Запишите название равнины.



РЕШУВПР.РФ

Ответ:

3 Пятиклассница Света, начав изучать географию, сказала младшему брату, что хочет стать сейсмологом. Что она могла ответить на вопрос брата: «А что изучают сейсмологи?»

- 1) народы и страны 2) почвы 3) изменения климата 4) землетрясения

Запишите номер выбранного ответа.

Ответ:

4 Установите соответствие между путешественниками и их вкладом в географическое изучение Земли. К каждой позиции, данной в первом столбце, подберите соответствующую позицию из второго столбца.

ПУТЕШЕСТВЕННИКИ

ВКЛАД В ГЕОГРАФИЧЕСКОЕ ИЗУЧЕНИЕ ЗЕМЛИ

А) Ф. Магеллан

1) открытие и исследование восточного побережья Австралии

Б) Дж. Кук

2) первое кругосветное путешествие

3) открытие Антарктиды

Запишите выбранные цифры под соответствующими буквами.

Ответ:

5 Пятиклассники получили задание сравнить маршруты экспедиций Б. Диаша и Васко да Гамы и определить их общие особенности. Укажите две общие особенности, которые должны указать пятиклассники.

- 1) Маршруты обеих экспедиций проходили вдоль западного побережья Африки.
- 2) Маршруты обеих экспедиций проходили у острова Мадагаскар.
- 3) Обе экспедиции пересекли экватор.
- 4) Обе экспедиции дошли по полуострова Индостан.

Запишите номера выбранных ответов.

Ответ:

6. Прочитайте текст с описанием маршрута путешествия Френсиса Дрейка в 1577–1580 гг. В тексте пропущен ряд слов (словосочетаний). Выберите из предлагаемого списка слова (словосочетания), которые необходимо вставить на места пропусков, обозначенных буквами. Запишите в текст номера выбранных слов (словосочетаний).

Плавание Френсиса Дрейка

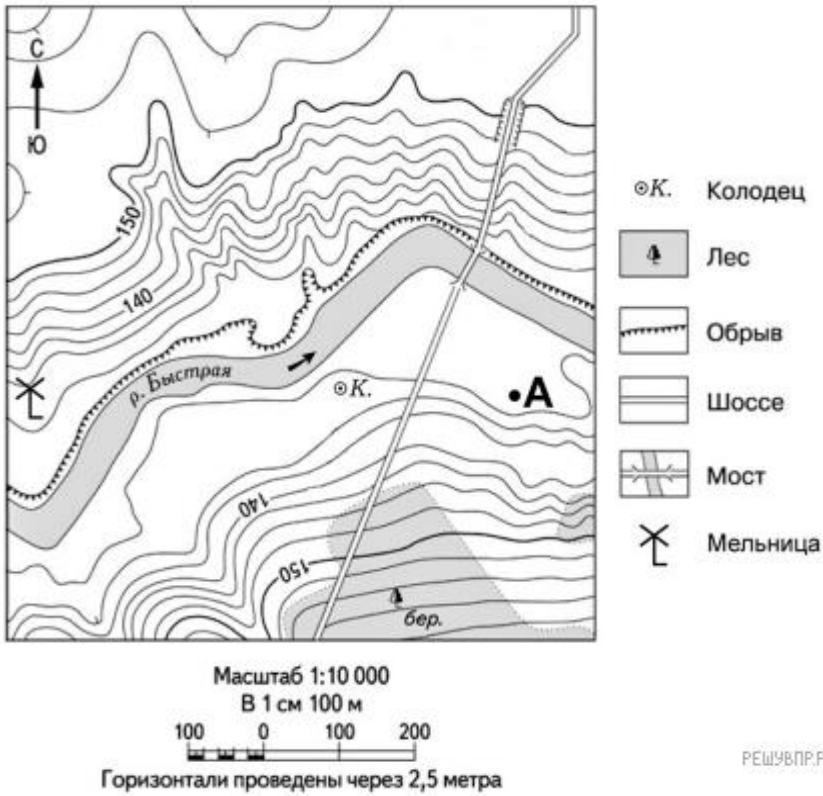
Френсис Дрейк отплыл от берегов _____ (А), пересёк Атлантический океан, проплыл на юг вдоль побережья _____ (Б), через Магелланов пролив вышел в Тихий океан, прошёл на север вдоль берегов Америки до параллели 40° с. ш., пересёк с востока на запад Тихий океан, направился через Индийский океан к южной оконечности Африки и, обогнув _____ (В), вернулся домой. Его плавание продолжалось почти три года.

Список слов (словосочетаний):

- 1) Европы
- 2) Австралии
- 3) Южной Америки
- 4) Северной Америки
- 5) мыс Горн
- 6) мыс Доброй Надежды

Ответ:

7. В каком направлении от точки А расположен колодец?



Ответ:

8. Школьники получили задание составить план городского парка. Размеры парка составляют План надо начертить на альбомном листе размером

Какой масштаб надо использовать ребятам, чтобы показать парк на плане как можно крупнее? План должен поместиться на лист целиком. Выберите верный ответ.

- 1) в 1 сантиметре — 200 метров 2) в 1 сантиметре — 100 метров
3) в 1 сантиметре — 50 метров 4) в 1 сантиметре — 10 метров

Запишите номер выбранного ответа.

Ответ:

9. Определите протяжённость (в километрах) Африки по экватору, если известно, что экватор пересекает западное побережье Африки в точке с координатами 0° ш. 9° в. д. и восточное побережье Африки в точке с координатами 0° ш. 43° в. д. Длину дуги 1° экватора считать равной 111 км. Запишите решение задачи.

Решения заданий с развернутым ответом не проверяются автоматически. Запишите решение на бумаге. На следующей странице вам будет предложено проверить их самостоятельно.

